

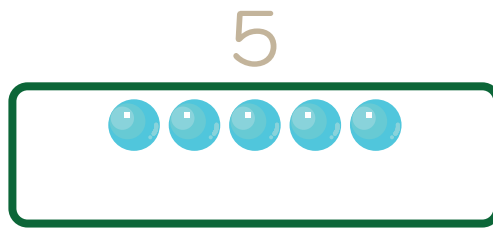
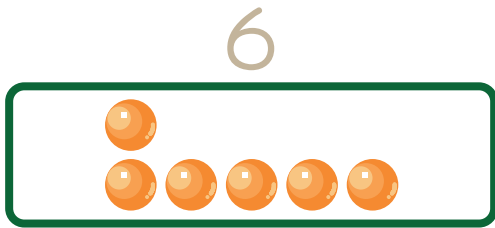
# くりあがりのあるたしざん

が	つ	に	ち
ね	ん	く	み

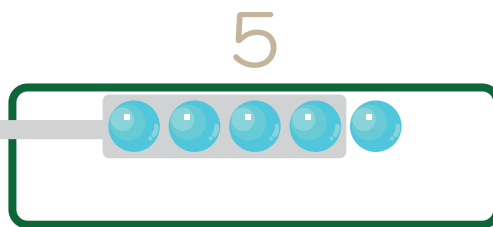
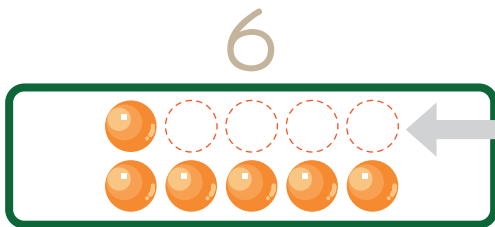


6このボールと5このボールをたすとなんこですか？


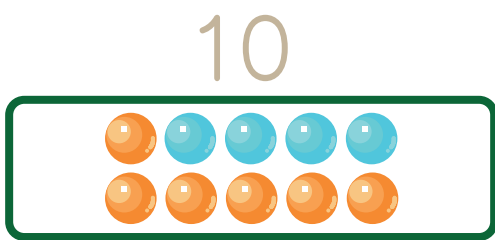
$$6 + 5$$



あといくつで10になるか  
かんがえる



4こうつす  
10のかたまりをつくる



10のかたまりと  
あまりが1こ

10のかたまり

あまりの1こ

$$10 + 1 = 11$$



$$6 + 5 = 11$$

6+5 は  
10+1 と  
おなじだね！



保護者欄

★に色を塗って、評点してください。

てんすう

