

# くりあがりのあるたしざん

が	つ	に	ち
ね	ん	く	み



じかんをはかりながらくりかえし  
もんだいをときましょう

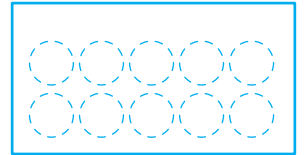
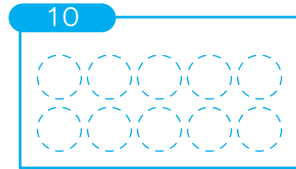
※繰り返し計算し、時間を記録することで上達をみます。

保護者欄に  
時間を記入

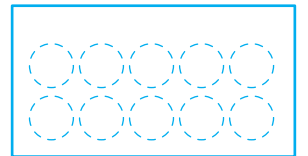
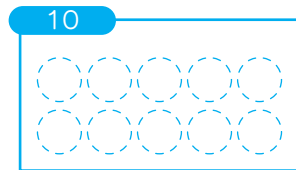
わからないときは  
したのまるを  
つかってみよう!



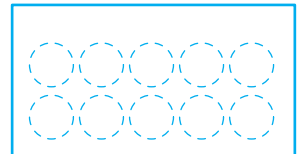
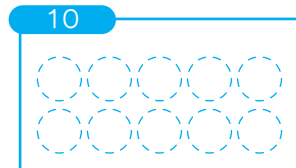
$$9 + 9 = \square$$



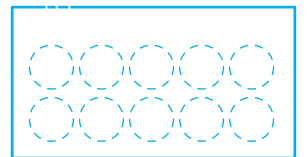
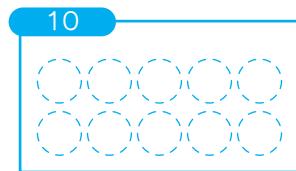
$$9 + 6 = \square$$



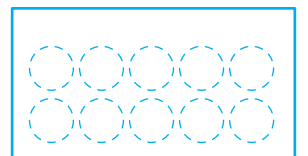
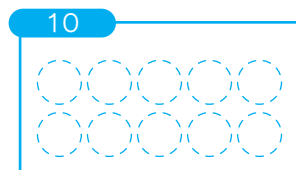
$$7 + 10 = \square$$



$$5 + 7 = \square$$



$$9 + 5 = \square$$



保護者欄

★評価してください。

★かかった時間を書きましょう

正解 \_\_\_\_\_ / 5 問中 \_\_\_\_\_ 分 \_\_\_\_\_ 秒



今回かかった時間と  
前回までの一番速かった時間とを  
比較してみましょう



**KIDS  
Print**

<http://kids-print.com>