

くりあがりのあるたしざん

が	つ	に	ち
ね	ん	く	み



じかんをはかりながらくりかえし
もんだいをときましょう

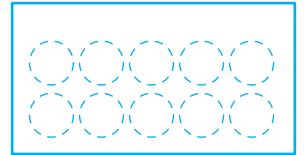
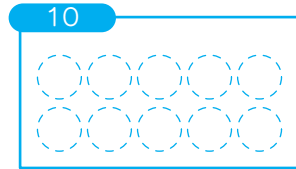
※繰り返し計算し、時間を記録することで上達をみます。

保護者欄に
時間を記入

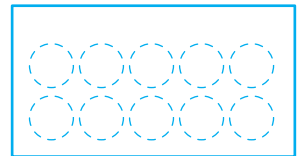
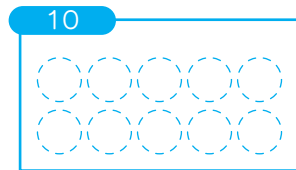
わからないときは
したのまるを
つかってみよう！




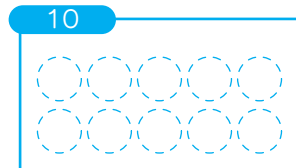
$$5 + 6 = \square$$



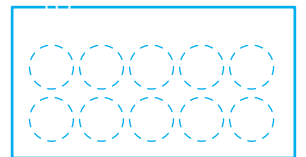
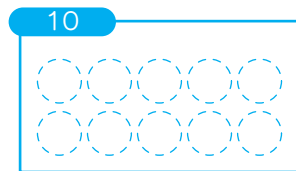
$$4 + 9 = \square$$



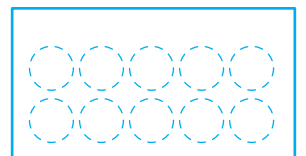
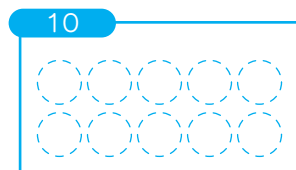
$$4 + 6 = \square$$



$$4 + 10 = \square$$



$$9 + 2 = \square$$



保護者欄

★評価してください。

★かかった時間を書きましょう

正解 _____ / 5 問中 _____ 分 _____ 秒



今回かかった時間と
前回までの一番速かった時間とを
比較してみましょう



**KIDS
Print**

<http://kids-print.com>