


ひとけたのたしざん

が	つ	に	ち
ね	ん	く	み

ひとけたのたしざんをしてみましょう


4 + 3 =

し・よん さん



3 + 6 =

さん ろく




2 + 6 =

に ろく



3 + 4 =

さん し・よん



2 + 4 =

に し・よん



保護者欄

★に色を塗って、評点してください。

てんすう

