


# ひとけたのひきざん

が	に	□ □
ねん	くみ	

ひとけたのひきざんをしてみましょう


6 - 2 = □

ろく に




2 - 1 = □

に いち



9 - 7 = □

く・きゅう しち・なな




9 - 8 = □

く・きゅう はち



8 - 5 = □

はち ご



保護者欄 ★に色を塗って、評点してください。

てんすう ☆ ☆ ☆ ☆ ☆