



# 表 (ひょう) とグラフ



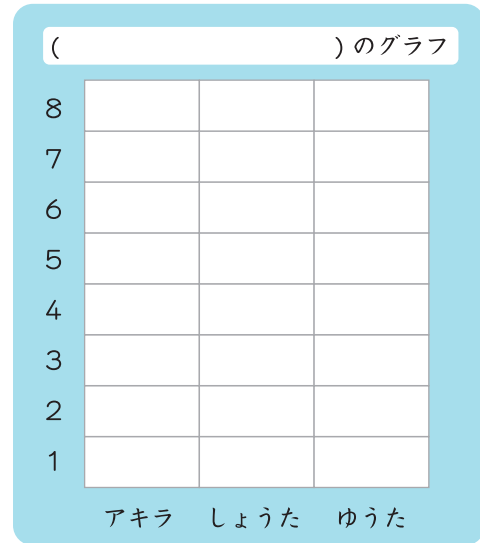
 ぶんしょうをよんで、表 (ひょう) とグラフをかいてみよう

アキラくんは、アメを6こもらいました。  
 しょうたくんがもらったアメは、アキラくんより2こ少ないです。  
 ゆうたくんがもらったアメは、しょうたくんより1こ多いです。




( ) の表 (ひょう)


なまえ	アキラ	しょうた	ゆうた
かず			



アメがいちばん多いのは \_\_\_\_\_ くん  
 アメがいちばん少ないのは \_\_\_\_\_ くん

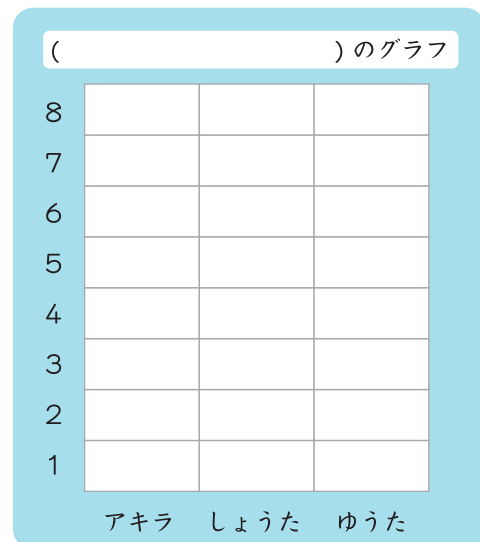
 ぶんしょうをよんで、表 (ひょう) とグラフをかいてみよう

アキラくんは、アメを7こもらいました。  
 しょうたくんがもらったアメは、ゆうたくんより1こ少ないです。  
 ゆうたくんがもらったアメは、アキラくんより2こ多いです。



( ) の表 (ひょう)

なまえ	アキラ	しょうた	ゆうた
かず			



アメがいちばん多いのは \_\_\_\_\_ くん  
 アメがいちばん少ないのは \_\_\_\_\_ くん

保護者欄 ★に色を塗って、評点してください。

てんすう 