
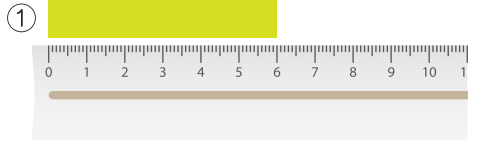


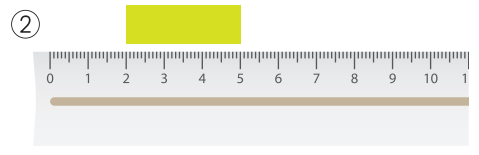
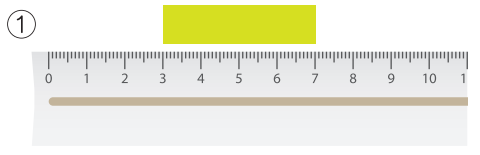
# 長さの単位 (cm, mm)

が	つ	に	ち
ね	ん	く	み

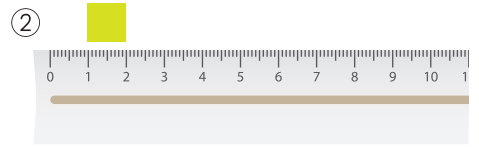
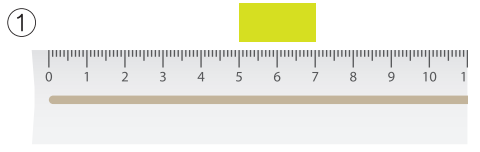
①と②の  の長さをくらべて、したの問いにこたえましょう。



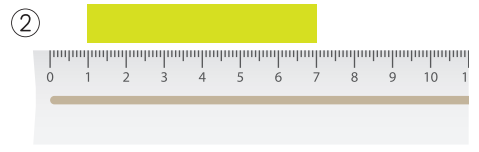
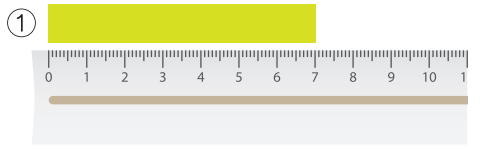
①の長さは \_\_\_\_ cm で、 ②の長さは \_\_\_\_ cm です。 \_\_\_\_ は \_\_\_\_ より \_\_\_\_ cm 長いです。



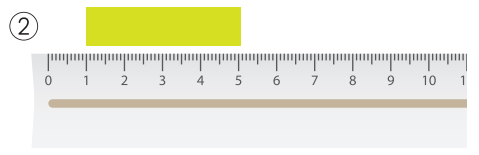
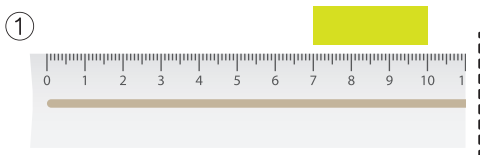
①の長さは \_\_\_\_ cm で、 ②の長さは \_\_\_\_ cm です。 \_\_\_\_ は \_\_\_\_ より \_\_\_\_ cm 長いです。



①の長さは \_\_\_\_ cm で、 ②の長さは \_\_\_\_ cm です。 \_\_\_\_ は \_\_\_\_ より \_\_\_\_ cm 長いです。



①の長さは \_\_\_\_ cm で、 ②の長さは \_\_\_\_ cm です。 \_\_\_\_ は \_\_\_\_ より \_\_\_\_ cm 長いです。



①の長さは \_\_\_\_ cm で、 ②の長さは \_\_\_\_ cm です。 \_\_\_\_ は \_\_\_\_ より \_\_\_\_ cm 長いです。

保護者欄 ★に色を塗って、評点してください。

てんすう