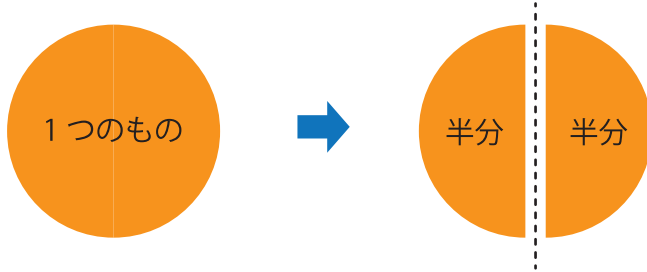


# 分数 (ぶんすう)

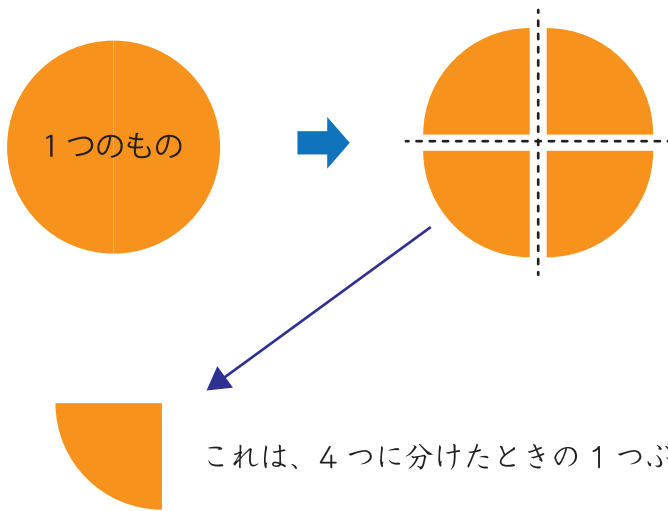
が	つ	に	ち
ね	ん	く	み

✂️ 4つに分けてみよう

先ほどは、1つのものを半分 (はんぶん) にしてみました。

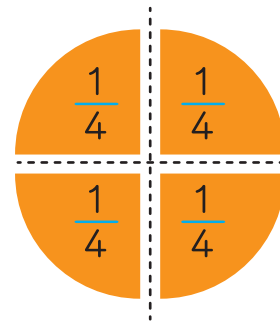



今度は、1つのものを、4つに分けてみましょう。



これは、4つに分けたときの1つぶん。

だから、 $\frac{1}{4}$  ですね。



$\frac{1}{4}$

1つぶん

4つに分 (わ) けたときの

4つに分けたときの1つぶん ➡️ 4分(ぶん)の1

保護者欄 ★に色を塗って、評点してください。

てんすう ☆ ☆ ☆ ☆ ☆