


分数 (ぶんすう)

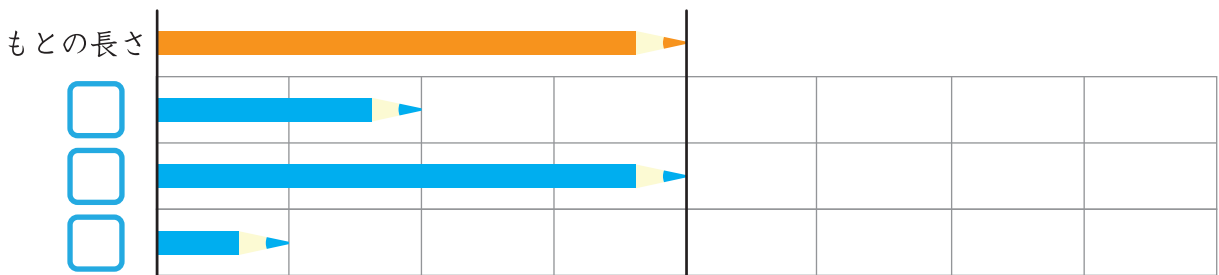
が	つ	に	ち
ね	ん	く	み

✏️ もんだいにこたえましょう。

- ① もとの長さの、 $\frac{1}{4}$ のエンピツはどれですか？ にしるしをつけましょう。



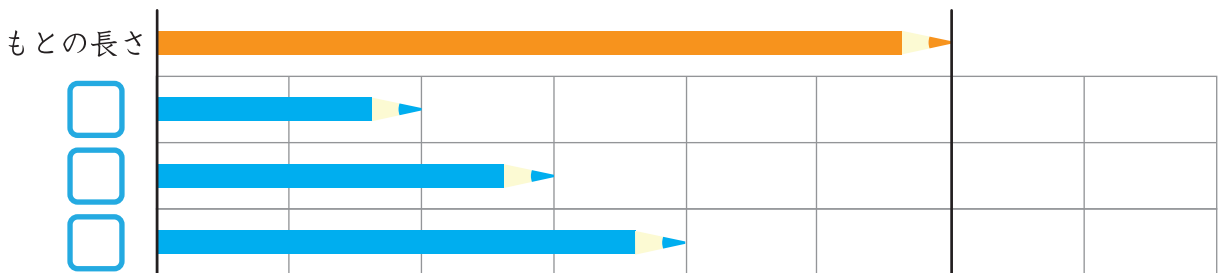
- ② もとの長さの、 $\frac{1}{4}$ のエンピツはどれですか？ にしるしをつけましょう。



もとの長さを
3つに分けたときの
1つぶんだよ！



- ③ もとの長さの、 $\frac{1}{3}$ のエンピツはどれですか？ にしるしをつけましょう。



保護者欄

★に色を塗って、評点してください。

てんすう

