

分数 (ぶんすう)

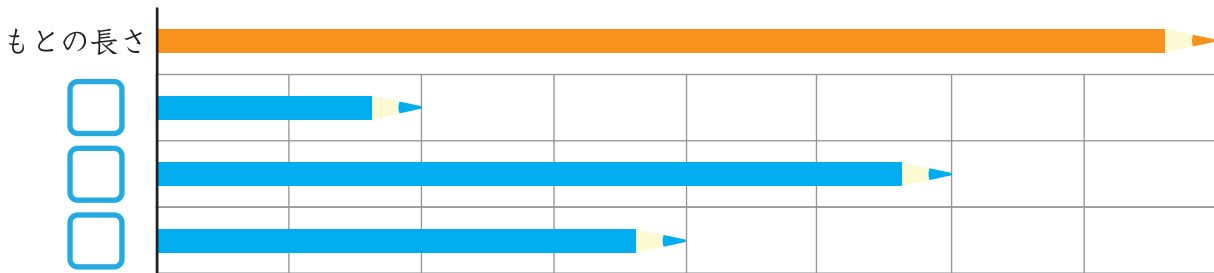
が	つ	に	ち
ね	ん	く	み

もんだいにこたえましょう。

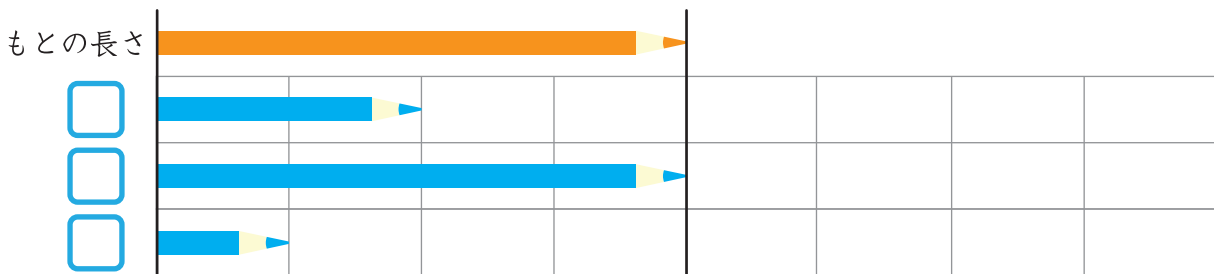
もとの長さがみじかくなると、
その半分の長さもみじかくなるよ！



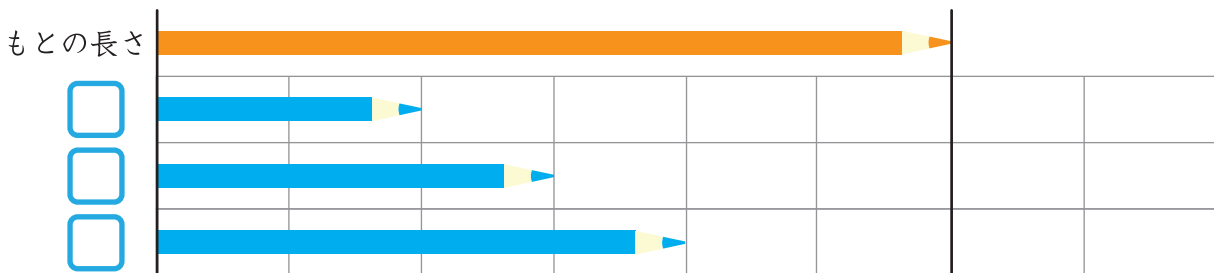
① もとの長さの、 $\frac{1}{2}$ のエンピツはどれですか？ にしるしをつけましょう。



② もとの長さの、 $\frac{1}{2}$ のエンピツはどれですか？ にしるしをつけましょう。



③ もとの長さの、 $\frac{1}{2}$ のエンピツはどれですか？ にしるしをつけましょう。



保護者欄

★に色を塗って、評点してください。

てんすう

