
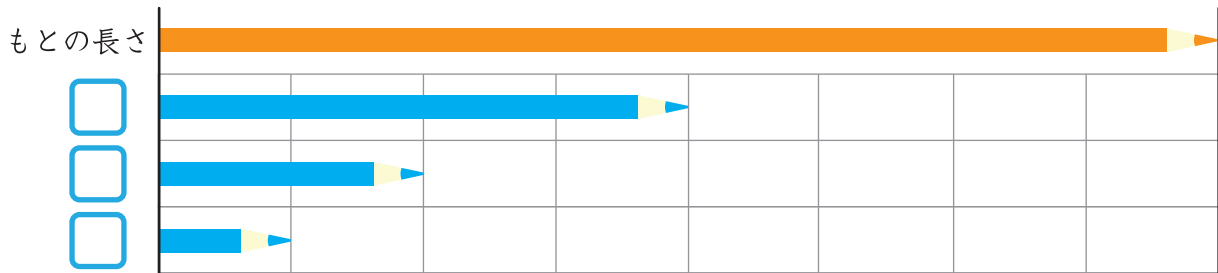


分数 (ぶんすう)

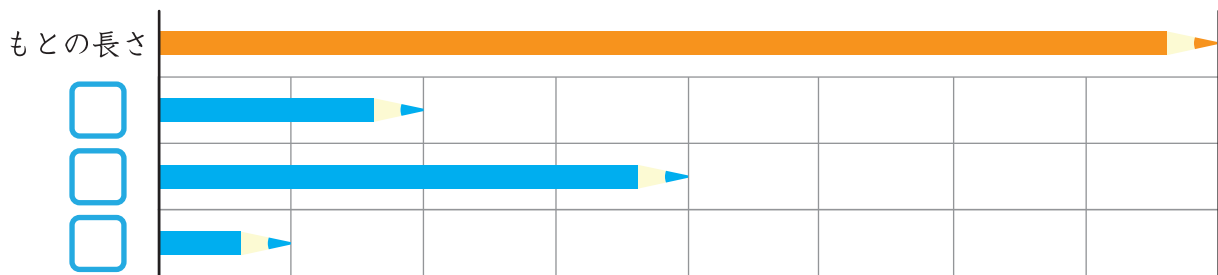
<input type="checkbox"/>	がつ	<input type="checkbox"/>	にち
<input type="checkbox"/>	ねん	<input type="checkbox"/>	くみ

 もんだいにこたえましょう。

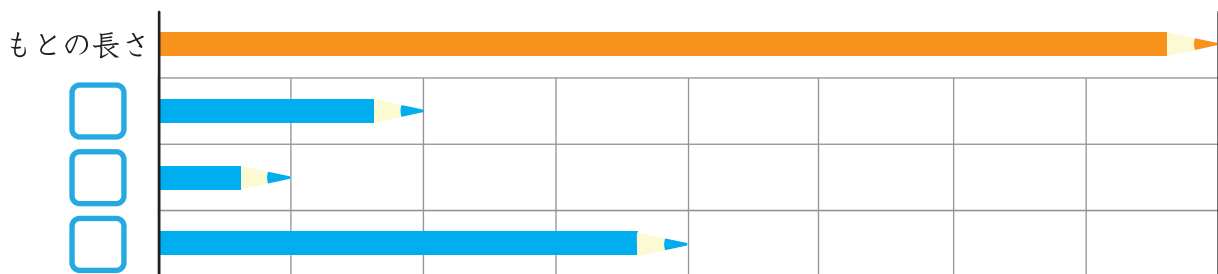
① もとの長さの、 $\frac{1}{2}$ のエンピツはどれですか？ にしるしをつけましょう。



② もとの長さの、 $\frac{1}{4}$ のエンピツはどれですか？ にしるしをつけましょう。



③ もとの長さの、 $\frac{1}{8}$ のエンピツはどれですか？ にしるしをつけましょう。



保護者欄

★に色を塗って、評点してください。

てんすう

