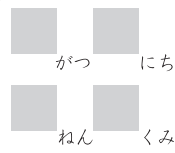



# 分数 (ぶんすう)





 下の丸が、「もとの大きさ」です。もんだいにこたえましょう。




① もとの大きさを、2つにわけたものはどれですか？  にしるしをつけましょう。



② もとの大きさを、4つにわけたものはどれですか？  にしるしをつけましょう。



③ もとの大きさを、8つにわけたものはどれですか？  にしるしをつけましょう。



保護者欄

★に色を塗って、評点してください。

てんすう

