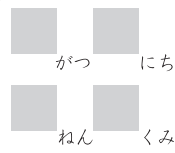
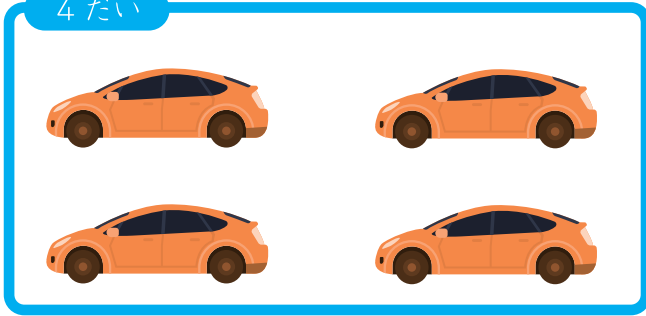


のこりはいくつ



| |
|--|
| |
| |

4だい




4だいのくるまのうち
3だいがうれました
のこりはなんだいですか？

けいさんしき

こたえ

8とう




とおくにいるヒツジのうち
5とうがこちらへきました
まだとおくにいるのは
なんとうですか？

けいさんしき

こたえ

5ほん



5ほんのギターのうち
1ぽんがうれのこりました
うれたのはなんぽんですか？

けいさんしき

こたえ

保護者欄

★に色を塗って、評点してください。

てんすう

