


のこりはいくつ

が	つ	に	ち
ね	ん	く	み

6びき




4びきがへやからでました
へやのなかにあとなんびき
いますか？

けいさんしき

こたえ

9ぼん




しあいで3ぼんおれました
おれていないバットは
あとなんぼん？

けいさんしき

こたえ

3こ



なすを2ぼんきりました
まだきっていないなすは
なんこですか？

けいさんしき

こたえ

保護者欄

★に色を塗って、評点してください。

てんすう

