


あわせていくつ


が	つ	に	ち
ね	ん	く	み

① あわせていくつですか？

1ぼん



2ぼん



けいさんしき

こたえ


$$\square + \square = \square$$

たす は


ぼん

② あわせていくつですか？

1とう



3とう



けいさんしき

こたえ


$$\square + \square = \square$$

たす は


とう

③ ぜんぶ あわせていくつですか？

3きれ



2きれ



けいさんしき

こたえ

$$\square + \square = \square$$

たす は

きれ

保護者欄

★に色を塗って、評点してください。

てんすう

