

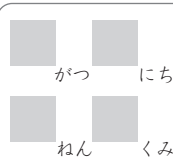
3つのかずをつかった
100までのかずのけいさん



じかんをはかりながらくりかえし
もんだいをときましょう

保護者欄に
時間を記入

※繰り返し計算し、時間を記録することで上達をみます。



① $96 + 8 - 20 =$

② $85 - 40 + 9 =$

③ $59 + 7 - 30 =$

④ $95 - 50 + 2 =$

⑤ $45 + 20 - 2 =$

⑥ $22 + 20 - 2 =$

⑦ $47 - 4 + 50 =$

⑧ $62 - 9 + 30 =$

⑨ $23 + 7 - 20 =$

⑩ $68 - 20 + 2 =$

保護者欄

★評点してください。

★かかった時間を書きましょう

正解 _____ / 10問中 _____ 分 _____ 秒



今回かかった時間と
前回までの一番速かった時間とを
比較してみましょう



**KIDS
Print**

<http://kids-print.com>

3つのかずをつかった
100までのかずのけいさん



じかんをはかりながらくりかえし
もんだいをときましょう

保護者欄に
時間を記入

※繰り返し計算し、時間を記録することで上達をみます。

が	つ	に	ち
ね	ん	く	み

① $41 - 3 + 50 =$

② $26 - 9 + 20 =$

③ $15 + 50 - 4 =$

④ $58 + 40 - 7 =$

⑤ $59 - 30 + 5 =$

⑥ $56 + 6 - 40 =$

⑦ $82 + 7 - 60 =$

⑧ $43 - 3 + 40 =$

⑨ $20 + 20 - 3 =$

⑩ $49 + 50 - 6 =$

保護者欄

★評点してください。

★かかった時間を書きましょう

正解 _____ / 10 問中 _____ 分 _____ 秒



今回かかった時間と
前回までの一番速かった時間とを
比較してみましょう



**KIDS
Print**

<http://kids-print.com>

3つのかずをつかった
100までのかずのけいさん



じかんをはかりながらくりかえし
もんだいをときましょう

保護者欄に
時間を記入

※繰り返し計算し、時間を記録することで上達をみます。

が	つ	に	ち
ね	ん	く	み

① $44 - 30 + 4 =$

② $91 - 30 + 7 =$

③ $54 - 50 + 1 =$

④ $11 + 6 - 10 =$

⑤ $76 - 10 + 5 =$

⑥ $27 - 4 + 20 =$

⑦ $19 + 80 - 6 =$

⑧ $93 - 30 + 9 =$

⑨ $85 + 5 - 70 =$

⑩ $94 - 90 + 8 =$

保護者欄

★評点してください。

★かかった時間を書きましょう

正解 _____ / 10問中 _____ 分 _____ 秒



今回かかった時間と
前回までの一番速かった時間とを
比較してみましょう



**KIDS
Print**

<http://kids-print.com>

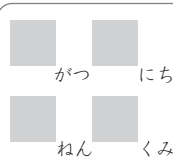
3つのかずをつかった
100までのかずのけいさん



じかんをはかりながらくりかえし
もんだいをときましょう

保護者欄に
時間を記入

※繰り返し計算し、時間を記録することで上達をみます。



--

① $92 - 90 + 8 =$

② $28 + 60 - 6 =$

③ $42 - 20 + 9 =$

④ $47 - 10 + 6 =$

⑤ $82 - 80 + 8 =$

⑥ $42 - 20 + 3 =$

⑦ $93 + 1 - 60 =$

⑧ $12 + 7 - 10 =$

⑨ $98 - 10 + 7 =$

⑩ $15 + 70 - 7 =$

保護者欄

★評点してください。

★かかった時間を書きましょう

正解 _____ / 10問中 _____ 分 _____ 秒



今回かかった時間と
前回までの一番速かった時間とを
比較してみましょう



**KIDS
Print**

<http://kids-print.com>

3つのかずをつかった
100までのかずのけいさん



じかんをはかりながらくりかえし
もんだいをときましょう

保護者欄に
時間を記入

※繰り返し計算し、時間を記録することで上達をみます。

が	つ	に	ち
ね	ん	く	み

① $54 + 40 - 4 =$

② $78 - 10 + 6 =$

③ $99 + 7 - 60 =$

④ $49 + 1 - 10 =$

⑤ $48 + 20 - 4 =$

⑥ $39 + 50 - 1 =$

⑦ $36 - 30 + 7 =$

⑧ $53 - 40 + 2 =$

⑨ $91 - 10 + 5 =$

⑩ $71 - 70 + 2 =$

保護者欄

★評点してください。

★かかった時間を書きましょう

正解 _____ / 10問中 _____ 分 _____ 秒



今回かかった時間と
前回までの一番速かった時間とを
比較してみましょう



**KIDS
Print**

<http://kids-print.com>

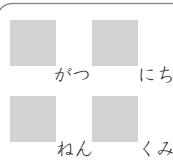
3つのかずをつかった
100までのかずのけいさん



じかんをはかりながらくりかえし
もんだいをときましょう

保護者欄に
時間を記入

※繰り返し計算し、時間を記録することで上達をみます。



① $88 - 50 + 2 =$

② $36 + 50 - 7 =$

③ $60 + 7 - 10 =$

④ $55 - 9 + 20 =$

⑤ $99 - 90 + 9 =$

⑥ $14 - 7 + 30 =$

⑦ $35 - 7 + 50 =$

⑧ $87 + 10 - 2 =$

⑨ $95 + 8 - 50 =$

⑩ $86 + 7 - 70 =$

保護者欄

★評点してください。

★かかった時間を書きましょう

正解 _____ / 10問中 _____ 分 _____ 秒



今回かかった時間と
前回までの一番速かった時間とを
比較してみましょう



**KIDS
Print**

<http://kids-print.com>

3つのかずをつかった
100までのかずのけいさん



じかんをはかりながらくりかえし
もんだいをときましょう

保護者欄に
時間を記入

※繰り返し計算し、時間を記録することで上達をみます。

が	つ	に	ち
ね	ん	く	み

1 $86 + 10 - 2 =$

2 $61 + 8 - 20 =$

3 $84 - 80 + 7 =$

4 $13 + 40 - 1 =$

5 $59 + 5 - 20 =$

6 $49 - 5 + 30 =$

7 $55 - 2 + 10 =$

8 $98 - 60 + 1 =$

9 $63 + 8 - 60 =$

10 $50 + 20 - 5 =$

保護者欄

★評点してください。

★かかった時間を書きましょう

正解 / 10 問中 分 秒



今回かかった時間と
前回までの一番速かった時間とを
比較してみましょう

3つのかずをつかった
100までのかずのけいさん



じかんをはかりながらくりかえし
もんだいをときましょう

保護者欄に
時間を記入

※繰り返し計算し、時間を記録することで上達をみます。

が	つ	に	ち
ね	ん	く	み

① $34 + 10 - 2 =$

② $12 + 50 - 6 =$

③ $23 + 2 - 10 =$

④ $95 + 8 - 30 =$

⑤ $50 + 30 - 7 =$

⑥ $63 - 60 + 9 =$

⑦ $31 + 60 - 1 =$

⑧ $94 + 9 - 40 =$

⑨ $28 + 7 - 20 =$

⑩ $60 + 1 - 30 =$

保護者欄

★評点してください。

★かかった時間を書きましょう

正解 / 10問中 分 秒



今回かかった時間と
前回までの一番速かった時間とを
比較してみましょう



**KIDS
Print**

<http://kids-print.com>

3つのかずをつかった
100までのかずのけいさん



じかんをはかりながらくりかえし
もんだいをときましょう

保護者欄に
時間を記入

※繰り返し計算し、時間を記録することで上達をみます。

が	つ	に	ち
ね	ん	く	み

① $19 - 8 + 50 =$

② $80 + 10 - 5 =$

③ $28 + 20 - 5 =$

④ $34 + 9 - 20 =$

⑤ $41 - 3 + 40 =$

⑥ $72 - 40 + 4 =$

⑦ $42 + 20 - 4 =$

⑧ $42 - 7 + 20 =$

⑨ $14 - 9 + 80 =$

⑩ $31 - 20 + 6 =$

保護者欄

★評点してください。

★かかった時間を書きましょう

正解 _____ / 10問中 _____ 分 _____ 秒



今回かかった時間と
前回までの一番速かった時間とを
比較してみましょう



http://kids-print.com

3つのかずをつかった
100までのかずのけいさん



じかんをはかりながらくりかえし
もんだいをときましょう

保護者欄に
時間を記入

※繰り返し計算し、時間を記録することで上達をみます。

が	つ	に	ち
ね	ん	く	み

① $71 - 30 + 1 =$

② $24 + 50 - 9 =$

③ $74 - 40 + 6 =$

④ $79 + 20 - 8 =$

⑤ $35 + 30 - 7 =$

⑥ $41 - 30 + 7 =$

⑦ $21 + 50 - 6 =$

⑧ $49 - 6 + 30 =$

⑨ $33 - 7 + 10 =$

⑩ $49 - 5 + 50 =$

保護者欄

★評価してください。

★かかった時間を書きましょう

正解 / 10問中 分 秒



今回かかった時間と
前回までの一番速かった時間とを
比較してみましょう



**KIDS
Print**

<http://kids-print.com>