

3つのかずをつかった
100までのかずのけいさん



じかんをはかりながらくりかえし
もんだいをときましょう

保護者欄に
時間を記入

※繰り返し計算し、時間を記録することで上達をみます。

が	つ	に	ち
ね	ん	く	み

① $32 + 7 - 20 =$

② $30 + 30 - 8 =$

③ $35 - 30 + 3 =$

④ $91 + 4 - 70 =$

⑤ $40 - 10 + 9 =$

⑥ $49 - 8 + 10 =$

⑦ $89 - 60 + 5 =$

⑧ $67 - 60 + 5 =$

⑨ $33 - 8 + 30 =$

⑩ $94 + 9 - 50 =$

保護者欄

★評点してください。

★かかった時間を書きましょう

正解 _____ / 10問中 _____ 分 _____ 秒



今回かかった時間と
前回までの一番速かった時間とを
比較してみましょう

3つのかずをつかった
100までのかずのけいさん



じかんをはかりながらくりかえし
もんだいをときましょう

保護者欄に
時間を記入

※繰り返し計算し、時間を記録することで上達をみます。

が っ に ち
ね ん く み

1 $67 + 4 - 10 =$

2 $98 + 2 - 50 =$

3 $56 - 40 + 2 =$

4 $63 + 10 - 8 =$

5 $32 - 8 + 50 =$

6 $51 + 2 - 50 =$

7 $29 + 40 - 1 =$

8 $73 - 7 + 20 =$

9 $77 + 3 - 10 =$

10 $26 - 2 + 40 =$

保護者欄

★評点してください。

★かかった時間を書きましょう

正解 / 10 問中 分 秒



今回かかった時間と
前回までの一番速かった時間とを
比較してみましょう



**KIDS
Print**

<http://kids-print.com>

3つのかずをつかった
100までのかずのけいさん



じかんをはかりながらくりかえし
もんだいをときましょう

保護者欄に
時間を記入

※繰り返し計算し、時間を記録することで上達をみます。

が	つ	に	ち
ね	ん	く	み

① $11 + 10 - 8 =$

② $38 + 7 - 10 =$

③ $84 + 10 - 4 =$

④ $56 - 9 + 40 =$

⑤ $33 + 50 - 8 =$

⑥ $72 - 20 + 5 =$

⑦ $44 - 1 + 30 =$

⑧ $75 - 10 + 9 =$

⑨ $97 + 5 - 30 =$

⑩ $78 + 8 - 50 =$

保護者欄

★評点してください。

★かかった時間を書きましょう

正解 _____ / 10 問中 _____ 分 _____ 秒



今回かかった時間と
前回までの一番速かった時間とを
比較してみましょう



**KIDS
Print**

<http://kids-print.com>

3つのかずをつかった
100までのかずのけいさん



じかんをはかりながらくりかえし
もんだいをときましょう

保護者欄に
時間を記入

※繰り返し計算し、時間を記録することで上達をみます。

が	つ	に	ち
ね	ん	く	み

① $83 - 50 + 3 =$

② $34 - 6 + 50 =$

③ $85 + 7 - 40 =$

④ $95 - 30 + 7 =$

⑤ $75 + 1 - 60 =$

⑥ $50 - 2 + 10 =$

⑦ $87 + 7 - 80 =$

⑧ $77 + 5 - 30 =$

⑨ $57 - 40 + 1 =$

⑩ $10 + 40 - 2 =$

保護者欄

★評点してください。

★かかった時間を書きましょう

正解 _____ / 10問中 _____ 分 _____ 秒



今回かかった時間と
前回までの一番速かった時間とを
比較してみましょう



**KIDS
Print**

<http://kids-print.com>

3つのかずをつかった
100までのかずのけいさん



じかんをはかりながらくりかえし
もんだいをときましょう

保護者欄に
時間を記入

※繰り返し計算し、時間を記録することで上達をみます。

が	つ	に	ち
ね	ん	く	み

① $40 - 1 + 10 =$

② $57 - 6 + 10 =$

③ $12 - 5 + 30 =$

④ $96 + 4 - 80 =$

⑤ $47 + 10 - 6 =$

⑥ $12 - 3 + 70 =$

⑦ $67 - 60 + 7 =$

⑧ $66 - 30 + 8 =$

⑨ $51 - 5 + 20 =$

⑩ $82 - 80 + 1 =$

保護者欄

★評点してください。

★かかった時間を書きましょう

正解 _____ / 10問中 _____ 分 _____ 秒



今回かかった時間と
前回までの一番速かった時間とを
比較してみましょう



**KIDS
Print**

<http://kids-print.com>

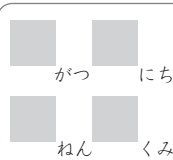
3つのかずをつかった
100までのかずのけいさん



じかんをはかりながらくりかえし
もんだいをときましょう

保護者欄に
時間を記入

※繰り返し計算し、時間を記録することで上達をみます。



① $96 - 30 + 6 =$

② $55 + 4 - 30 =$

③ $23 - 1 + 30 =$

④ $99 - 50 + 5 =$

⑤ $22 + 50 - 7 =$

⑥ $57 - 30 + 6 =$

⑦ $65 - 30 + 4 =$

⑧ $56 + 10 - 7 =$

⑨ $90 - 40 + 9 =$

⑩ $12 + 9 - 10 =$

保護者欄

★評点してください。

★かかった時間を書きましょう

正解 _____ / 10問中 _____ 分 _____ 秒



今回かかった時間と
前回までの一番速かった時間とを
比較してみましょう



**KIDS
Print**

<http://kids-print.com>

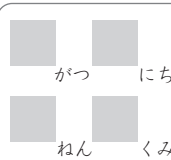
3つのかずをつかった
100までのかずのけいさん



じかんをはかりながらくりかえし
もんだいをときましょう

保護者欄に
時間を記入

※繰り返し計算し、時間を記録することで上達をみます。



① $36 + 40 - 2 =$

② $36 - 9 + 10 =$

③ $93 - 10 + 6 =$

④ $74 - 10 + 1 =$

⑤ $55 - 5 + 40 =$

⑥ $30 - 6 + 50 =$

⑦ $47 + 20 - 8 =$

⑧ $41 + 2 - 30 =$

⑨ $46 + 50 - 2 =$

⑩ $36 - 10 + 7 =$

保護者欄

★評点してください。

★かかった時間を書きましょう

正解 _____ / 10問中 _____ 分 _____ 秒



今回かかった時間と
前回までの一番速かった時間とを
比較してみましょう



**KIDS
Print**

<http://kids-print.com>

3つのかずをつかった
100までのかずのけいさん



じかんをはかりながらくりかえし
もんだいをときましょう

保護者欄に
時間を記入

※繰り返し計算し、時間を記録することで上達をみます。

が っ に ち
ね ん く み

① $81 + 9 - 10 =$

② $90 - 80 + 1 =$

③ $16 + 9 - 10 =$

④ $85 + 9 - 60 =$

⑤ $10 + 10 - 9 =$

⑥ $30 + 10 - 8 =$

⑦ $84 + 8 - 40 =$

⑧ $15 - 1 + 70 =$

⑨ $40 + 40 - 5 =$

⑩ $25 - 2 + 60 =$

保護者欄

★評点してください。

★かかった時間を書きましょう

正解 _____ / 10 問中 _____ 分 _____ 秒



今回かかった時間と
前回までの一番速かった時間とを
比較してみましょう



**KIDS
Print**

<http://kids-print.com>

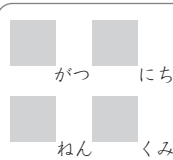
3つのかずをつかった
100までのかずのけいさん



じかんをはかりながらくりかえし
もんだいをときましょう

保護者欄に
時間を記入

※繰り返し計算し、時間を記録することで上達をみます。



① $73 - 60 + 8 =$

② $75 + 8 - 10 =$

③ $24 + 70 - 2 =$

④ $49 + 40 - 4 =$

⑤ $87 - 4 + 10 =$

⑥ $22 - 5 + 10 =$

⑦ $81 + 8 - 50 =$

⑧ $27 + 7 - 10 =$

⑨ $67 - 50 + 5 =$

⑩ $26 + 10 - 5 =$

保護者欄

★評点してください。

★かかった時間を書きましょう

正解 _____ / 10問中 _____ 分 _____ 秒



今回かかった時間と
前回までの一番速かった時間とを
比較してみましょう



**KIDS
Print**

<http://kids-print.com>

3つのかずをつかった
100までのかずのけいさん



じかんをはかりながらくりかえし
もんだいをときましょう

保護者欄に
時間を記入

※繰り返し計算し、時間を記録することで上達をみます。

が っ に ち
ね ん く み

1 $72 - 5 + 20 =$

2 $98 - 20 + 5 =$

3 $41 - 20 + 1 =$

4 $83 + 9 - 80 =$

5 $36 + 20 - 2 =$

6 $82 + 9 - 20 =$

7 $12 + 70 - 6 =$

8 $66 - 10 + 5 =$

9 $32 - 10 + 6 =$

10 $44 + 3 - 30 =$

保護者欄

★評価してください。

★かかった時間を書きましょう

正解 _____ / 10 問中 _____ 分 _____ 秒



今回かかった時間と
前回までの一番速かった時間とを
比較してみましょう



**KIDS
Print**

<http://kids-print.com>