

3つのかずをつかった  
100までのかずのけいさん



じかんをはかりながらくりかえし  
もんだいをときましょう

保護者欄に  
時間を記入

※繰り返し計算し、時間を記録することで上達をみます。

が っ      に ち  
ね ん      く み

|  |
|--|
|  |
|  |

①  $56 - 50 + 1 =$

②  $64 + 4 - 50 =$

③  $53 + 3 - 40 =$

④  $88 + 2 - 40 =$

⑤  $94 - 90 + 4 =$

⑥  $75 + 20 - 6 =$

⑦  $83 + 10 - 7 =$

⑧  $65 + 9 - 20 =$

⑨  $71 - 30 + 2 =$

⑩  $59 + 9 - 40 =$

保護者欄

★評点してください。

★かかった時間を書きましょう

正解 \_\_\_\_\_ / 10 問中 \_\_\_\_\_ 分 \_\_\_\_\_ 秒



今回かかった時間と  
前回までの一番速かった時間とを  
比較してみましょう



**KIDS  
Print**

<http://kids-print.com>

3つのかずをつかった  
100までのかずのけいさん



じかんをはかりながらくりかえし  
もんだいをときましょう

保護者欄に  
時間を記入

※繰り返し計算し、時間を記録することで上達をみます。

|   |   |   |   |
|---|---|---|---|
| が | つ | に | ち |
| ね | ん | く | み |

①  $96 - 40 + 4 =$

②  $74 + 10 - 3 =$

③  $39 - 2 + 20 =$

④  $58 + 7 - 30 =$

⑤  $79 - 50 + 2 =$

⑥  $59 + 40 - 8 =$

⑦  $62 + 3 - 10 =$

⑧  $52 - 30 + 2 =$

⑨  $22 - 20 + 1 =$

⑩  $28 - 1 + 70 =$

保護者欄 ★評点してください。

★かかった時間を書きましょう

正解 \_\_\_\_\_ / 10問中 \_\_\_\_\_ 分 \_\_\_\_\_ 秒

今回かかった時間と  
前回までの一番速かった時間とを  
比較してみましょう

3つのかずをつかった  
100までのかずのけいさん



じかんをはかりながらくりかえし  
もんだいをときましょう

保護者欄に  
時間を記入

※繰り返し計算し、時間を記録することで上達をみます。

|   |   |   |   |   |   |   |   |   |   |
|---|---|---|---|---|---|---|---|---|---|
| <table border="1"> <tr> <td>が</td> <td>つ</td> <td>に</td> <td>ち</td> </tr> <tr> <td>ね</td> <td>ん</td> <td>く</td> <td>み</td> </tr> </table> | が | つ | に | ち | ね | ん | く | み | <div style="border: 1px solid black; height: 40px; width: 100%;"></div> |
| が   | つ | に | ち |   |   |   |   |   |   |
| ね   | ん | く | み |   |   |   |   |   |   |

①  $37 - 8 + 20 =$

②  $50 + 1 - 20 =$

③  $33 + 8 - 30 =$

④  $68 - 20 + 6 =$

⑤  $32 + 3 - 10 =$

⑥  $83 + 6 - 30 =$

⑦  $64 + 30 - 9 =$

⑧  $92 + 9 - 30 =$

⑨  $20 - 4 + 20 =$

⑩  $39 - 20 + 3 =$

保護者欄

★評価してください。

★かかった時間を書きましょう

正解        / 10問中       分       秒



今回かかった時間と  
前回までの一番速かった時間とを  
比較してみましょう



**KIDS  
Print**

<http://kids-print.com>

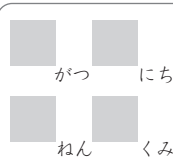
3つのかずをつかった  
100までのかずのけいさん



じかんをはかりながらくりかえし  
もんだいをときましょう

保護者欄に  
時間を記入

※繰り返し計算し、時間を記録することで上達をみます。



|  |
|--|
|  |
|  |

①  $41 - 1 + 40 =$

②  $92 + 2 - 90 =$

③  $33 - 4 + 20 =$

④  $67 - 10 + 3 =$

⑤  $15 - 7 + 40 =$

⑥  $27 - 2 + 10 =$

⑦  $25 + 40 - 1 =$

⑧  $87 - 80 + 7 =$

⑨  $74 + 9 - 70 =$

⑩  $42 + 10 - 7 =$

保護者欄

★評点してください。

★かかった時間を書きましょう

正解 \_\_\_\_\_ / 10問中 \_\_\_\_\_ 分 \_\_\_\_\_ 秒



今回かかった時間と  
前回までの一番速かった時間とを  
比較してみましょう



**KIDS  
Print**

<http://kids-print.com>

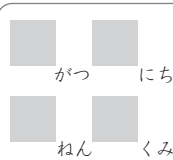
3つのかずをつかった  
100までのかずのけいさん



じかんをはかりながらくりかえし  
もんだいをときましょう

保護者欄に  
時間を記入

※繰り返し計算し、時間を記録することで上達をみます。



|  |
|--|
|  |
|  |

1  $73 - 70 + 4 =$

2  $29 + 40 - 6 =$

3  $82 + 1 - 10 =$

4  $71 - 3 + 10 =$

5  $64 + 30 - 7 =$

6  $12 + 6 - 10 =$

7  $57 - 40 + 2 =$

8  $77 + 2 - 40 =$

9  $24 - 3 + 50 =$

10  $14 - 9 + 50 =$

保護者欄

★評点してください。

★かかった時間を書きましょう

正解 \_\_\_\_\_ / 10問中 \_\_\_\_\_ 分 \_\_\_\_\_ 秒



今回かかった時間と  
前回までの一番速かった時間とを  
比較してみましょう



**KIDS  
Print**

<http://kids-print.com>

3つのかずをつかった  
100までのかずのけいさん



じかんをはかりながらくりかえし  
もんだいをときましょう

保護者欄に  
時間を記入

※繰り返し計算し、時間を記録することで上達をみます。

|   |   |   |   |
|---|---|---|---|
| が | つ | に | ち |
| ね | ん | く | み |

①  $58 + 1 - 30 =$

②  $58 - 10 + 5 =$

③  $34 - 6 + 40 =$

④  $51 + 40 - 4 =$

⑤  $51 - 7 + 30 =$

⑥  $47 - 20 + 6 =$

⑦  $66 + 30 - 1 =$

⑧  $71 + 5 - 60 =$

⑨  $38 - 6 + 60 =$

⑩  $87 - 60 + 5 =$

保護者欄

★評点してください。

★かかった時間を書きましょう

正解  / 10問中  分  秒



今回かかった時間と  
前回までの一番速かった時間とを  
比較してみましょう



<http://kids-print.com>

3つのかずをつかった  
100までのかずのけいさん



じかんをはかりながらくりかえし  
もんだいをときましょう

保護者欄に  
時間を記入

※繰り返し計算し、時間を記録することで上達をみます。

|   |   |   |   |
|---|---|---|---|
| が | つ | に | ち |
| ね | ん | く | み |

|  |
|--|
|  |
|  |

①  $89 - 20 + 7 =$

②  $99 + 2 - 30 =$

③  $88 + 7 - 10 =$

④  $73 + 20 - 8 =$

⑤  $52 - 20 + 2 =$

⑥  $73 + 5 - 20 =$

⑦  $41 - 10 + 4 =$

⑧  $53 - 20 + 2 =$

⑨  $89 - 20 + 8 =$

⑩  $51 + 40 - 9 =$

保護者欄

★評点してください。

★かかった時間を書きましょう

正解 \_\_\_\_\_ / 10問中 \_\_\_\_\_ 分 \_\_\_\_\_ 秒



今回かかった時間と  
前回までの一番速かった時間とを  
比較してみましょう



**KIDS  
Print**

<http://kids-print.com>

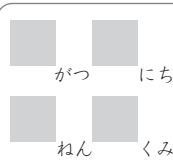
3つのかずをつかった  
100までのかずのけいさん



じかんをはかりながらくりかえし  
もんだいをときましょう

保護者欄に  
時間を記入

※繰り返し計算し、時間を記録することで上達をみます。



|  |
|--|
|  |
|  |

①  $89 - 6 + 10 =$

②  $86 - 40 + 3 =$

③  $45 - 7 + 30 =$

④  $21 + 60 - 7 =$

⑤  $41 - 30 + 2 =$

⑥  $66 - 40 + 4 =$

⑦  $47 - 7 + 20 =$

⑧  $25 - 4 + 20 =$

⑨  $73 + 8 - 60 =$

⑩  $51 - 50 + 5 =$

保護者欄

★評点してください。

★かかった時間を書きましょう

正解 \_\_\_\_\_ / 10問中 \_\_\_\_\_ 分 \_\_\_\_\_ 秒



今回かかった時間と  
前回までの一番速かった時間とを  
比較してみましょう



**KIDS  
Print**

<http://kids-print.com>



3つのかずをつかった  
100までのかずのけいさん



じかんをはかりながらくりかえし  
もんだいをときましょう

保護者欄に  
時間を記入

※繰り返し計算し、時間を記録することで上達をみます。

|   |   |   |   |
|---|---|---|---|
| が | つ | に | ち |
| ね | ん | く | み |

①  $72 + 1 - 50 =$

②  $75 + 10 - 7 =$

③  $36 + 40 - 5 =$

④  $10 - 9 + 40 =$

⑤  $53 - 40 + 6 =$

⑥  $77 + 4 - 30 =$

⑦  $11 - 7 + 40 =$

⑧  $89 + 6 - 30 =$

⑨  $75 - 20 + 5 =$

⑩  $20 - 1 + 40 =$

保護者欄

★評点してください。

★かかった時間を書きましょう

正解 \_\_\_\_\_ / 10問中 \_\_\_\_\_ 分 \_\_\_\_\_ 秒



今回かかった時間と  
前回までの一番速かった時間とを  
比較してみましょう



**KIDS  
Print**

<http://kids-print.com>

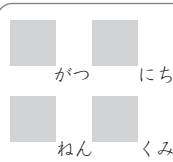
3つのかずをつかった  
100までのかずのけいさん



じかんをはかりながらくりかえし  
もんだいをときましょう

保護者欄に  
時間を記入

※繰り返し計算し、時間を記録することで上達をみます。



|  |
|--|
|  |
|  |

①  $24 + 40 - 4 =$

②  $75 - 70 + 7 =$

③  $63 - 6 + 10 =$

④  $53 - 50 + 2 =$

⑤  $59 + 2 - 10 =$

⑥  $58 + 6 - 20 =$

⑦  $74 - 5 + 20 =$

⑧  $12 + 60 - 6 =$

⑨  $65 - 1 + 30 =$

⑩  $15 - 2 + 70 =$

保護者欄

★評価してください。

★かかった時間を書きましょう

正解 \_\_\_\_\_ / 10問中 \_\_\_\_\_ 分 \_\_\_\_\_ 秒



今回かかった時間と  
前回までの一番速かった時間とを  
比較してみましょう



**KIDS  
Print**

<http://kids-print.com>