

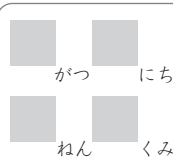
むしくい
100 までのかずのけいさん



じかんをはかりながらくりかえし
もんだいをときましょう

※繰り返し計算し、時間を記録することで上達をみます。

保護者欄に
時間を記入



が	つ	に	ち
ね	ん	く	み

$$57 - 6 = \square$$

$$88 - \square = 80$$

$$\square - 3 = 93$$

$$81 - 1 = \square$$

$$75 - \square = 72$$

$$\square - 4 = 65$$

$$65 - 5 = \square$$

$$70 - \square = 68$$

$$\square - 7 = 92$$

$$52 - 6 = \square$$

$$61 - \square = 60$$

$$\square - 6 = 74$$

$$42 - \square = 37$$

$$11 - \square = 6$$

$$51 - 2 = \square$$

$$38 - 3 = \square$$

$$\square - 1 = 65$$

$$\square - 6 = 10$$

$$74 - \square = 68$$

$$72 - \square = 65$$

保護者欄

★評点してください。

★かかった時間を書きましょう

正解 _____ / 20 問中 _____ 分 _____ 秒



今回かかった時間と
前回までの一番速かった時間とを
比較してみましょう



KIDS
Print

<http://kids-print.com>

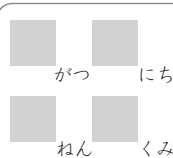
むしくい
100 までのかずのけいさん



じかんをはかりながらくりかえし
もんだいをときましょう

※繰り返し計算し、時間を記録することで上達をみます。

保護者欄に
時間を記入



$$54 - 6 = \square$$

$$63 - \square = 62$$

$$\square - 3 = 25$$

$$81 - 7 = \square$$

$$82 - \square = 73$$

$$\square - 7 = 63$$

$$58 - 3 = \square$$

$$26 - \square = 24$$

$$\square - 4 = 92$$

$$40 - 7 = \square$$

$$24 - \square = 15$$

$$\square - 9 = 17$$

$$99 - \square = 98$$

$$39 - \square = 30$$

$$54 - 1 = \square$$

$$21 - 5 = \square$$

$$\square - 6 = 9$$

$$\square - 3 = 82$$

$$50 - \square = 44$$

$$62 - \square = 59$$

保護者欄

★評点してください。

★かかった時間を書きましょう

正解 _____ / 20 問中 _____ 分 _____ 秒



今回かかった時間と
前回までの一番速かった時間とを
比較してみましょう



**KIDS
Print**

<http://kids-print.com>

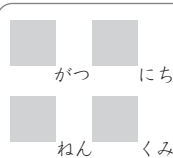
むしくい
100までのかずのけいさん



じかんをはかりながらくりかえし
もんだいをときましょう

※繰り返し計算し、時間を記録することで上達をみます。

保護者欄に
時間を記入



が	つ	に	ち
ね	ん	く	み

$$66 - 5 = \square$$

$$26 - \square = 23$$

$$\square - 2 = 17$$

$$66 - 2 = \square$$

$$41 - \square = 37$$

$$\square - 4 = 87$$

$$40 - 8 = \square$$

$$37 - \square = 36$$

$$\square - 1 = 57$$

$$41 - 9 = \square$$

$$32 - \square = 30$$

$$\square - 8 = 33$$

$$30 - \square = 26$$

$$10 - \square = 8$$

$$93 - 4 = \square$$

$$53 - 3 = \square$$

$$\square - 7 = 16$$

$$\square - 4 = 85$$

$$82 - \square = 80$$

$$80 - \square = 77$$

保護者欄

★評点してください。

★かかった時間を書きましょう

正解 / 20 問中 分 秒



今回かかった時間と
前回までの一番速かった時間とを
比較してみましょう



**KIDS
Print**

<http://kids-print.com>

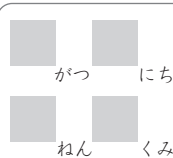
むしくい
100 までのかずのけいさん



じかんをはかりながらくりかえし
もんだいをときましょう

※繰り返し計算し、時間を記録することで上達をみます。

保護者欄に
時間を記入



$$70 - 1 = \square$$

$$\square - 1 = 83$$

$$15 - \square = 13$$

$$33 - 3 = \square$$

$$\square - 6 = 36$$

$$88 - \square = 85$$

$$36 - \square = 27$$

$$25 - 5 = \square$$

$$\square - 9 = 37$$

$$82 - \square = 74$$

$$82 - \square = 75$$

$$87 - 9 = \square$$

$$\square - 2 = 33$$

$$91 - \square = 89$$

$$55 - 8 = \square$$

$$\square - 7 = 8$$

$$97 - \square = 88$$

$$57 - 1 = \square$$

$$\square - 5 = 24$$

$$67 - \square = 64$$

保護者欄

★評点してください。

★かかった時間を書きましょう

正解 _____ / 20 問中 _____ 分 _____ 秒



今回かかった時間と
前回までの一番速かった時間とを
比較してみましょう



**KIDS
Print**

<http://kids-print.com>

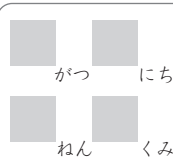
むしくい
100 までのかずのけいさん



じかんをはかりながらくりかえし
もんだいをときましょう

※繰り返し計算し、時間を記録することで上達をみます。

保護者欄に
時間を記入



$$77 - 4 = \square$$

$$\square - 5 = 90$$

$$95 - \square = 91$$

$$85 - 5 = \square$$

$$\square - 4 = 50$$

$$48 - \square = 40$$

$$13 - \square = 12$$

$$94 - 8 = \square$$

$$\square - 9 = 53$$

$$13 - \square = 11$$

$$64 - \square = 63$$

$$53 - 8 = \square$$

$$\square - 5 = 23$$

$$63 - \square = 57$$

$$98 - 6 = \square$$

$$\square - 1 = 38$$

$$78 - \square = 71$$

$$96 - 6 = \square$$

$$\square - 9 = 63$$

$$36 - \square = 30$$

保護者欄

★評点してください。

★かかった時間を書きましょう

正解 _____ / 20 問中 _____ 分 _____ 秒



今回かかった時間と
前回までの一番速かった時間とを
比較してみましょう



KIDS
Print

<http://kids-print.com>

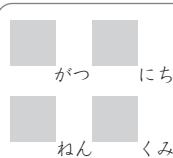
むしくい
100 までのかずのけいさん



じかんをはかりながらくりかえし
もんだいをときましょう

※繰り返し計算し、時間を記録することで上達をみます。

保護者欄に
時間を記入



$$79 - 1 = \square$$

$$27 - \square = 22$$

$$\square - 4 = 95$$

$$48 - 7 = \square$$

$$53 - \square = 52$$

$$\square - 3 = 14$$

$$33 - 6 = \square$$

$$50 - \square = 47$$

$$\square - 7 = 21$$

$$32 - 8 = \square$$

$$45 - \square = 43$$

$$\square - 4 = 67$$

$$98 - \square = 91$$

$$30 - \square = 22$$

$$18 - 1 = \square$$

$$78 - 3 = \square$$

$$\square - 7 = 24$$

$$\square - 8 = 43$$

$$73 - \square = 66$$

$$81 - \square = 78$$

保護者欄

★評点してください。

★かかった時間を書きましょう

正解 _____ / 20 問中 _____ 分 _____ 秒



今回かかった時間と
前回までの一番速かった時間とを
比較してみましょう



KIDS
Print

<http://kids-print.com>

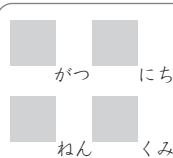
むしくい
100までのかずのけいさん



じかんをはかりながらくりかえし
もんだいをときましょう

※繰り返し計算し、時間を記録することで上達をみます。

保護者欄に
時間を記入



$$25 - 9 = \square$$

$$34 - \square = 28$$

$$\square - 6 = 55$$

$$87 - 7 = \square$$

$$44 - \square = 40$$

$$\square - 5 = 82$$

$$45 - 4 = \square$$

$$98 - \square = 96$$

$$\square - 4 = 82$$

$$56 - 3 = \square$$

$$47 - \square = 45$$

$$\square - 8 = 81$$

$$59 - \square = 56$$

$$68 - \square = 59$$

$$99 - 3 = \square$$

$$64 - 7 = \square$$

$$\square - 3 = 74$$

$$\square - 8 = 77$$

$$25 - \square = 21$$

$$13 - \square = 8$$

保護者欄

★評点してください。

★かかった時間を書きましょう

正解 _____ / 20 問中 _____ 分 _____ 秒



今回かかった時間と
前回までの一番速かった時間とを
比較してみましょう



**KIDS
Print**

<http://kids-print.com>

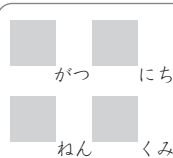
むしくい
100までのかずのけいさん



じかんをはかりながらくりかえし
もんだいをときましょう

※繰り返し計算し、時間を記録することで上達をみます。

保護者欄に
時間を記入



が	つ	に	ち
ね	ん	く	み

$$69 - 5 = \square$$

$$36 - \square = 29$$

$$\square - 4 = 77$$

$$48 - 6 = \square$$

$$18 - \square = 13$$

$$\square - 7 = 89$$

$$90 - 6 = \square$$

$$60 - \square = 57$$

$$\square - 3 = 86$$

$$14 - 5 = \square$$

$$28 - \square = 22$$

$$\square - 6 = 23$$

$$12 - \square = 4$$

$$39 - \square = 34$$

$$75 - 8 = \square$$

$$99 - 6 = \square$$

$$\square - 9 = 18$$

$$\square - 3 = 32$$

$$76 - \square = 71$$

$$98 - \square = 94$$

保護者欄

★評点してください。

★かかった時間を書きましょう

正解 _____ / 20 問中 _____ 分 _____ 秒



今回かかった時間と
前回までの一番速かった時間とを
比較してみましょう



**KIDS
Print**

<http://kids-print.com>

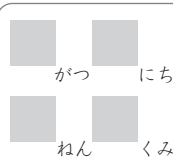
むしくい
100 までのかずのけいさん



じかんをはかりながらくりかえし
もんだいをときましょう

※繰り返し計算し、時間を記録することで上達をみます。

保護者欄に
時間を記入



$$37 - 4 = \square$$

$$15 - \square = 10$$

$$\square - 6 = 88$$

$$45 - 9 = \square$$

$$24 - \square = 17$$

$$\square - 8 = 35$$

$$50 - 5 = \square$$

$$81 - \square = 76$$

$$\square - 8 = 34$$

$$31 - 4 = \square$$

$$28 - \square = 24$$

$$\square - 1 = 43$$

$$73 - \square = 69$$

$$84 - \square = 78$$

$$56 - 1 = \square$$

$$61 - 9 = \square$$

$$\square - 3 = 52$$

$$\square - 7 = 42$$

$$63 - \square = 54$$

$$71 - \square = 68$$

保護者欄

★評点してください。

★かかった時間を書きましょう

正解 _____ / 20 問中 _____ 分 _____ 秒



今回かかった時間と
前回までの一番速かった時間とを
比較してみましょう



KIDS
Print

<http://kids-print.com>

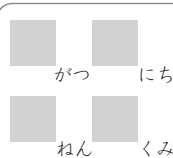
むしくい
100 までのかずのけいさん



じかんをはかりながらくりかえし
もんだいをときましょう

※繰り返し計算し、時間を記録することで上達をみます。

保護者欄に
時間を記入



$$72 - 4 = \square$$

$$\square - 6 = 71$$

$$71 - \square = 70$$

$$98 - 8 = \square$$

$$\square - 4 = 23$$

$$83 - \square = 81$$

$$89 - \square = 88$$

$$34 - 3 = \square$$

$$\square - 3 = 61$$

$$72 - \square = 71$$

$$57 - \square = 48$$

$$34 - 7 = \square$$

$$\square - 7 = 82$$

$$51 - \square = 45$$

$$39 - 3 = \square$$

$$\square - 8 = 49$$

$$22 - \square = 14$$

$$12 - 1 = \square$$

$$\square - 7 = 52$$

$$37 - \square = 28$$

保護者欄

★評点してください。

★かかった時間を書きましょう

正解 / 20 問中 分 秒



今回かかった時間と
前回までの一番速かった時間とを
比較してみましょう



**KIDS
Print**

<http://kids-print.com>